

PTET-2014 (Pre B.Ed.) - हल प्रश्न पत्र

|स्मृति पर आधारित।

भाग - अ : मानसिक योग्यता

निर्देश- (1-5)- निम्नलिखित में उसे चुनिए जो अन्य तीन विकल्पों से भिन्न है।

- (1) स्कूल (2) छात्र (3) प्रिन्सिपल (4) शिक्षक (1)
- (1) HIVW (2) MKLN (3) EFOP (4) CDYZ (2)
- (1) 62-26 (2) 38-83 (3) 44-44 (4) 71-87 (4)
- (1) पुत्र (2) भतीजी (3) पौत्र (4) पौत्री (2)
- (1) नाक (2) जीम (3) दाँत (4) कान (3)

निर्देश- (6-10)- दिए गए विकल्पों में से सम्बन्धित शब्द/अक्षर प्रोत्साहित/संख्या को चुनिए।

- आहार : आदमी :: ईधन : ? (1) लकड़ी (2) आग (3) गर्मी (4) धुआँ (2)
- धोना (धुलाई) : साबुन :: बुहारना (सफाई) : ? (1) झाड़ू (2) धूल (3) फर्श (4) बैठना (1)
- 25 : 125 :: ? : 3125 (1) 525 (2) 625 (3) 725 (4) 825 (2)
- 27 : ? :: 125 : 25 (1) 3 (2) 9 (3) 18 (4) 125 (2)
- BDGH : OQTU :: FHKL : ? (1) JKLM (2) BCDE (3) SUXY (4) WXYZ (3)
- जिस प्रकार BF का सम्बन्ध HL से है उसी प्रकार EI का सम्बन्ध किससे है? (1) KO (2) KN (3) JN (4) JO (1)
- किसी कोड में GLARE को '513%#* और LIVE को '18@# लिखा जाता है। उसी कोड में GIVE को कैसे लिखा जायेगा? (1) 581# (2) 25%# (3) 5#8% (4) 58@# (4)
- किसी निश्चित कोड में SUBJECT को 'ATRIUDF' लिखा जाता है। उसी कोड में ORDINAL को क्या लिखेंगे? (1) CQNHMBO (2) CQNHBMBO (3) NQCHMBO (4) ESPHMBO (1)
- PAL : LAP :: PAN : ? (1) NAP (2) LAN (3) PAM (4) MAP (1)
- यदि नारंगी को नींबू कहा जाता है, नींबू को फूल कहा जाता है, फूल को मछली कहा जाता है, मछली को पूँछ कहा जाता है और पूँछ को जानवर कहा जाता है तो गुलाब क्या है? (1) नींबू (2) मछली (3) फूल (4) जानवर (2)

- (1) नींबू (2) मछली (3) फूल (4) जानवर (2)
- वर्णमाला में आपके दाईं ओर से 9वें अक्षर से बाईं ओर 7वें अक्षर कौनसा होगा? (1) Y (2) L (3) J (4) K (4)
- शब्द 'SEAMING' में अक्षरों के ऐसे कितने जोड़े हैं जिनमें से प्रत्येक के बीच उतने ही अक्षर हैं जितने कि अंग्रेजी वर्णमाला में उनके बीच हैं? (1) कोई नहीं (2) एक (3) दो (4) तीन (3)
- निम्नलिखित शब्दों को अंग्रेजी शब्दकोष के अनुसार क्रम से रखें-
1. Apple 2. Apartment
3. Apply 4. Application
(1) 3, 1, 4, 2 (2) 3, 1, 2, 4
(3) 1, 3, 4, 2 (4) 2, 1, 4, 3 (4)

निर्देश नीचे दी गई अंक श्रृंखला में कौनसा अंक लुप्त है?

- 24, 29, 39, ?, 74 (1) 49 (2) 54 (3) 44 (4) 80 (2)
- 0, 2, 6, 12, 20, ?, 42 (1) 34 (2) 30 (3) 32 (4) 28 (2)
- T, R, P, N, L, ?, ? (1) J, G (2) J, H (3) K, H (4) K, I (2)
- दी गई अक्षर-श्रृंखला के खाली स्थानों पर क्रम से रखने पर निम्नलिखित में से कौनसा अक्षर-समूह उसे पूरा करेगा?
_XX_Y_XXXX_Y
(1) YXYX (2) YXYX (3) XYXX (4) YYX (4)
- दिए हुए विकल्पों में से उस शब्द को चुनिए जो दिए गए शब्द के अक्षरों का प्रयोग करके नहीं बनाया जा सकता- INTERNATIONAL
(1) NATIONAL (2) TERMINAL
(3) TENANT (4) TENOR (2)
- माला की ओर इशारा करते हुए कला ने कहा, "वह मेरे भाई की इकलौती बहिन की पुत्री है।" माला का कला से क्या संबंध है? (1) माता (2) पुत्री (3) मौसी (4) भतीजी (2)
- नीचे दिए विकल्पों में से कौनसे चिन्हों या संख्याओं का अदल-बदल दिए गए समीकरण को सही कर देगा?
(5 + 2) × 2 - 10 = 16
(1) + और × (2) 5 और 10
(3) + और - (4) 5 और 2 (3)

- कुछ समीकरण किसी विशेष प्रणाली के आधार पर हल किए गए हैं। इसी आधार पर हल न किए गए समीकरण का सही उत्तर ज्ञात कीजिए-
 $3 \times 5 \div 7 = 573$, $8 \times 6 \div 3 = 638$,
 $3 \times 7 \div 5 = 753$, $8 \times 6 \div 4$
(1) 864 (2) 468
(3) 648 (4) 846 (3)

निर्देश- (27-28)- दिए गए विकल्पों में से लुप्त संख्या ज्ञात कीजिए-

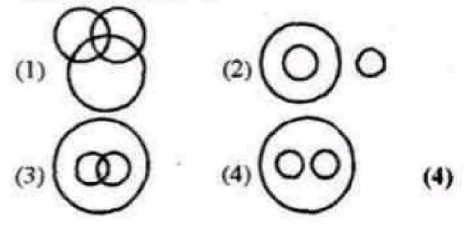
- | | | | |
|-----|-----|----|---|
| 5 | 6 | 3 | 8 |
| 6 | 5 | 4 | 7 |
| 7 | 4 | 5 | 6 |
| 210 | 120 | 60 | ? |

(1) 336 (2) 330
(3) 270 (4) 390 (1)

- | | | |
|----|---|----|
| 5 | 4 | 41 |
| 7 | 3 | 58 |
| 10 | 2 | ? |

(1) 34 (2) 12
(3) 99 (4) 104 (4)

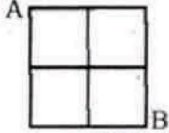
- रमेश पूर्व की ओर 20 मी. गया, फिर बायीं ओर मुड़ा और 15 मी. चलने के बाद दायीं ओर मुड़कर 25 मी. चला और फिर दायीं ओर मुड़कर 15 मी. चला। रमेश प्रारम्भिक स्थान से कितनी दूर है? (1) 60 मी. (2) 35 मी. (3) 40 मी. (4) 45 मी. (4)
- एक व्यक्ति पूर्व की ओर चलता है। कुछ दूर चलने के पश्चात् वह फिर अपने दायीं ओर मुड़ता है। कुछ दूर चलने के पश्चात् वह फिर अपने दायीं ओर मुड़ता है। कुछ दूर चलने के बाद, अन्त में, वह अपने बायीं ओर मुड़ता है। अब वह किस दिशा में जा रहा है? (1) उत्तर (2) दक्षिण (3) पूर्व (4) पश्चिम (2)
- निम्नलिखित में से कौनसी आकृति सीमेन्ट, ईट और भवन-निर्माण के बीच सम्बन्ध को भली-भाँति दर्शाती है?



32. A, B, C, D तथा E में से प्रत्येक किसी परीक्षा में अलग-अलग अंक प्राप्त करते हैं। C, D से ज्यादा अंक प्राप्त करता है लेकिन उतना नहीं जितना E। E, A से ज्यादा अंक प्राप्त करता है जो B से कम अंक प्राप्त करता है। उसमें तीसरा सबसे अधिक अंक कौन प्राप्त करता है?

- (1) B (2) A
(3) C (4) आँकड़े अधूरे हैं। (4)

33. दिए गये चित्र में सिर्फ रेखाओं पर कम से कम दूरी से चलते हुए A से B तक किस प्रकार से पहुँच सकते हैं?



- (1) 2 (2) 4
(3) 6 (4) 5 (3)

निर्देश (34-35)- निम्न जानकारी का अध्ययन कर नीचे दिये गये प्रश्नों के उत्तर दीजिए।

P, T, V, R, M, D, K और W केन्द्र की ओर मुँह करके एक गोल मेज के गिर्द बैठे हुए हैं। V, T के बाएँ को दूसरा है। T, M के दाएँ को चौथा है। D व P, T के अगल-बगल नहीं है। D, P के दाएँ को तीसरा है। W, P के बगल में नहीं बैठा है। P, K की बाईं बगल में बैठा है।

34. K के बाएँ में दूसरा कौन है?

- (1) P (2) R
(3) M (4) W (2)

35. V की बाईं बगल में कौन है?

- (1) D (2) M
(3) W (4) डाटा अपर्याप्त है। (1)

निर्देश (36-37)- दी गई व्यवस्था का ध्यानपूर्वक अध्ययन कर निम्न प्रश्नों के उत्तर दीजिए-

BCFEAUDCBFEDUCABFEACFB ED

36. उपरोक्त व्यवस्था में से सभी स्वर निकाल दिये जायें तो निम्न में से कौनसा उपरोक्त व्यवस्था के बायें से तेरहवाँ होगा?

- (1) F (2) B
(3) C (4) D (1)

37. उपरोक्त व्यवस्था में ऐसे कितने स्वर हैं जिनमें से प्रत्येक के तुरंत बाद एक व्यंजन है किन्तु तुरंत पहले एक व्यंजन नहीं है?

- (1) कोई नहीं (2) एक
(3) दो (4) तीन (3)

निर्देश (38-40)- नीचे तीन कथन तथा उनके आधार पर दो निष्कर्ष दिये गये हैं। आपको बताना है कि निम्न में से क्या होगा?

आपको दिये गये कथनों को सत्य मानना है, भले

ही वे सर्वज्ञात तथ्यों से भिन्न प्रतीत होते हों। सभी निष्कर्षों को पढ़िये और फिर तय कीजिए कि दिया गया कौनसा निष्कर्ष दिये गये कथनों का तर्कसंगत रूप से अनुसरण करता है, भले ही सर्वज्ञात तथ्य कुछ भी हों।

उत्तर (1) दिजिए यदि केवल निष्कर्ष I अनुसरण करता है।

उत्तर (2) दिजिए यदि केवल निष्कर्ष II अनुसरण करता है।

उत्तर (3) दिजिए यदि या तो निष्कर्ष I या II अनुसरण करता है।

उत्तर (4) दिजिए यदि न तो निष्कर्ष I न ही II अनुसरण करता है।

उत्तर (5) दिजिए यदि दोनों निष्कर्ष I और II अनुसरण करते हैं।

38. कथन- I. कुछ बॉल रैकेट हैं।

II. कुछ रैकेट बैट हैं।

III. कुछ बैट नेट हैं।

निष्कर्ष- I. कोई नेट बॉल नहीं है।

II. सभी रैकेट नेट हैं। (4)

39. कथन- I. सभी कम्प्यूटर प्रिन्टर हैं।

II. सभी प्रिन्टर स्टेप्लर हैं।

III. सभी स्टेप्लर स्कैनर हैं।

निष्कर्ष- I. सभी प्रिन्टर स्कैनर हैं।

II. कुछ स्टेप्लर कम्प्यूटर हैं। (5)

40. कथन- I. कुछ कैजुअल फॉर्मल हैं।

II. सभी फॉर्मल एक्सपेसिव हैं।

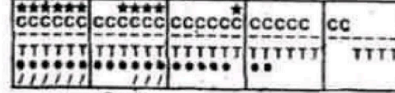
III. सभी एक्सपेसिव एलेगंट हैं।

निष्कर्ष- I. सभी फॉर्मल एलेगंट हैं।

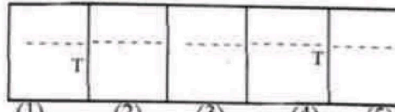
II. कुछ कैजुअल एक्सपेसिव हैं। (5)

निर्देश- दिये गये प्रत्येक प्रश्न में यदि क्रम जारी रहा तो प्रश्न के नीचे दी गई पाँच उत्तर आकृतियों में से कौनसी उत्तर आकृति ऊपरी दी गई श्रृंखला का अगला चरण होगा?

41. प्रश्न आकृतियों



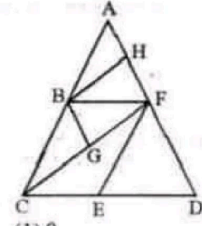
उत्तर आकृतियों



42. निम्न में से किस वर्ष में फरवरी के महीने में 29 दिन नहीं थे?

- (1) 2000 (2) 2004
(3) 1996 (4) 1966 (4)

43. निम्नलिखित चित्र में कितने त्रिभुज हैं?



- (1) 8 (2) 10
(3) 12 (4) 11 (4)

44. P का पिता B है। E जो D की पत्नी और P की सास है। उसका एकमात्र पोता Q है। B का D से क्या सम्बन्ध है।

- (1) कजन (2) दामाद
(3) पुत्र (4) भतीजा (3)

45. निम्नलिखित श्रृंखला में प्रश्न-चिन्ह (?) के स्थान पर क्या आएगा?

- (1) AGGG (2) DGHF
(3) DHIG (4) DHHG (3)

46. निम्न श्रृंखला का अगला पद क्या होगा?

AABABCBCDABCDEABCDEFABCDEF

- (1) A (2) C
(3) H (4) G (4)

47. श्रेढी 60, 30, 20, 15 के अगले दो पद हैं-

- (1) 10 तथा 5 (2) 4 तथा 2
(3) 10 तथा 8 (4) 12 तथा 10 (4)

48. निम्नलिखित अंग्रेजी वर्णमाला के प्रथम अर्द्धांश को यदि विपरीत क्रम में लिख दिया जाए, तो आपके दांये से 15 वें अक्षर के दांये चौथा अक्षर कौनसा होगा?

ABCDEFGHIJKLMN OPQRSTUVWXYZ

- (1) Q (2) P
(3) D (4) इनमें से कोई नहीं (2)

49. किसी पंक्ति में राम का बाँयी ओर से 40वाँ स्थान है। उसी पंक्ति में श्याम का दाँयी ओर से 25 वाँ स्थान है। यदि ये दोनों आपस में अपना स्थान अदल-बदल कर लें तो बाँयी ओर से राम का 50वाँ स्थान हो जाता है तो बताओ श्याम का दाँयी ओर से नया स्थान क्या होगा?

- (1) 75 (2) 74
(3) 35 (4) 55 (3)

50. मनीष को याद है कि उसके पिता का जन्म दिन 13 और 16 जून के बीच में पड़ता है, जबकि उसके भाई अनीश को याद है कि उसके पिता का जन्म दिन 14 और 18 जून के बीच में पड़ता है। उनके पिता का जन्म दिन किस दिन होगा, जिन पर दोनों सहमत हों?

- (1) 14 जून (2) 15 जून
(3) 16 जून (4) 17 जून (2)

भाग-ब : शिक्षण अभिवृत्ति व अभिरूचि परीक्षण

51. सामाजिक परिपक्वता का अर्थ है-

- (1) बालक का फल की भाँति पकना
(2) बालक में सदबुद्धि एवं विवेक का विकास होना
(3) बालक में सामाजिक कुशलताओं का विकास होना
(4) बालक के प्रौढ के समक्ष संतुलित, सामाजिक

व्यवहार का प्रदर्शन करना। (3)

52. तुलनात्मक रूप से शिक्षण व्यवसाय है-

- (1) लाभदायक
(2) संवेदनशील एवं कठिन
(3) व्यवस्थित एवं कठोर
(4) अति महत्त्वपूर्ण एवं जवाबदेह (4)

53. राष्ट्रीय शिक्षा नीति व कार्यक्रमों का ज्ञान प्रदर्शित करता है-

- (1) शिक्षा के प्रति सजगता
(2) राजनीतिक चेतना
(3) व्यावसायिक रूचि
(4) धनोपार्जन की क्षमता (1)

54. कक्षा में उपेक्षित बालकों की पहचान अध्यापक को कब करनी चाहिए?
- (1) बहुत शीघ्र (2) समय-समय पर
(3) कभी-भी (4) ज्ञात नहीं (1)
55. साम्प्रदायिक तनाव को रोकने के लिए आप-
- (1) लोगों से व्यक्तिगत रूप से मिलकर अलगाव की भावना को दूर करने का प्रयास करेंगे।
(2) तनाव को बढ़ाने में योगदान देंगे।
(3) कोई रुचि नहीं लेंगे।
(4) समूह बनाकर चेतना जागृत करेंगे। (1)
56. विकास एवं भाषा की दृष्टि से सबसे पिछड़ा होता है-
- (1) बहरा (2) अंधा
(3) बहुभाषी (4) अंधा व बहरा (4)
57. 'विद्यार्थी तथा आम श्रोता में कोई अंतर नहीं है।' उक्त उक्ति से आप-
- (1) असहमत है (2) सहमत है
(3) कम सहमत है (4) अनिश्चित हैं। (1)
58. समाजीकरण एक ऐसी प्रक्रिया है जिसका उद्देश्य होता है-
- (1) बालक को सामाजिक भूमिका के निभाने के लायक बनाना।
(2) बालक को सामाजिक मानकों का प्रशिक्षण देना।
(3) बालक में सामाजिक परम्परा एवं कुशलता का विकास करना।
(4) बालक के सामाजिक समायोजन में वृद्धि करना। (3)
59. अध्यापक के प्रति आपकी श्रद्धा की भावना का पूर्ण विकास तब होता है, जब-
- (1) शिक्षक को विषय का पूर्ण ज्ञान हो
(2) शिक्षक का निष्पक्ष व्यवहार हो
(3) शिक्षक का आदर्श चरित्र हो
(4) शिक्षक धनी हो (1)
60. 'परिणात्मक प्रविधि' में प्रमुख रूप से मूल्यांकन का आधार सम्मिलित किया गया है-
- (1) उत्तर लिखवाने
(2) मौखिक पूछने एवं जाँचने
(3) उपर्युक्त (1) व (2) दोनों
(4) उत्तीर्ण एवं अनुत्तीर्ण करने (3)
61. बालकों के माता-पिता, शिक्षकों से क्या आशा रखते हैं-
- (1) शिक्षक निष्पक्ष एवं योग्य हो
(2) विषय-वस्तु पर शिक्षक का वर्चस्व हो
(3) बालकों के प्रति सहानुभूति, प्रेम तथा रचनात्मक अभिवृत्तियों का प्रदर्शन करें
(4) शिक्षक कक्षा के अनुशासन एवं प्रबन्धन में दक्ष हो। (3)
62. समूह के लोग अपने नेता का अनुसरण करते हैं, क्योंकि-
- (1) वह उनकी समस्याओं को समझता है।
(2) वह उनसे सम्बन्धित होता है।
(3) वह प्रशंसा पाता है।
(4) वह धन प्राप्त करता है। (1)
63. शिक्षण व्यवसाय को किस वर्ग में वर्गीकृत किया जाना चाहिए-
- (1) क्लर्क वर्ग में (2) प्रबन्धक वर्ग में
(3) व्यावसायिक वर्ग में (4) सर्विस वर्ग में (3)
64. विद्यालय के परीक्षा परिणाम में जाँच सूची का महत्वपूर्ण योगदान होता है, क्योंकि इससे विद्यार्थी के-
- (1) मानसिक एवं बौद्धिक स्तर की जानकारी ज्ञात होती है।
(2) विभिन्न स्तरों के अनवरत मूल्यांकन में सहायता मिलती है।
(3) उत्तीर्ण या अनुत्तीर्ण होने की जानकारी प्राप्त होती है।
(4) अभिभावकों को प्रसन्न किया जा सकता है। (2)
65. आपको यदि व्यवसाय के चयन के लिए स्वतंत्रता दी जाये तो आप सर्वोच्च प्राथमिकता देंगे-
- (1) चिकित्सा को (2) बैंक अधिकारी को
(3) शिक्षण को (4) कानून को (3)
66. सम्प्रेषण व्यापक रूप में-
- (1) पशु-पक्षियों व मनुष्यों के मध्य विद्यमान
(2) केवल मनुष्यों में विद्यमान
(3) प्रकृति में सर्वत्र विद्यमान
(4) प्रकृति व मनुष्यों में समान रूप से विद्यमान (1)
67. एक कुशल वाक् शक्ति या सशक्त अभिव्यक्ति आदर्श अध्यापक के लिए श्रेष्ठ मानी गई है, क्योंकि-
- (1) इससे अध्यापक का रोबिला व्यक्तित्व बनता है।
(2) अन्य सहकर्मी उससे दबकर रहते हैं।
(3) विषय का अधिगम शिक्षण कक्ष में अधिक प्रभावोत्पादक व सुसम्प्रेषणीय बन जाता है।
(4) विद्यार्थी सहजता से अपेक्षित विषय सामग्री को ग्रहण कर लेते हैं। (3)
68. शिक्षण प्रक्रिया में क्रियाशीलता पाई जाती है-
- (1) अभिभावक में (2) विद्यार्थी में
(3) शिक्षक-शिक्षार्थी दोनों में
(4) इनमें से कोई नहीं (3)
69. शिक्षक का प्रमुख कार्य है-
- (1) पाठ्यक्रम समय पर पूरा करवाना
(2) छात्रों को प्रभावी शिक्षा देना
(3) छात्रों का मार्गदर्शन करना
(4) छात्रों के साथ पक्षपातपूर्ण व्यवहार करना (2)
70. आज के नेताओं के जीवन मूल्यों में बदलाव आ गया है-
- (1) निःसदेह (2) असहमत
(3) संभवतः (4) कम सहमत (1)
71. वर्तमान में शिक्षण से तात्पर्य है-
- (1) अध्यापक द्वारा छात्रों को ज्ञान प्रदान करना
(2) निर्देशित करना
(3) न केवल ज्ञान प्रदान करना बल्कि ज्ञानार्जन को निर्देशित करना
(4) द्यूशन देना (3)
72. बालक के विकास में सर्वाधिक योगदान होता है-
- (1) अच्छे विद्यालय का
(2) पाठ्यपुस्तकों का
(3) धनवान माता-पिता का
(4) योग्य एवं समर्पित शिक्षकों का (4)
73. शिक्षण एक मनोविज्ञान है-
- (1) सैद्धान्तिक मनोविज्ञान
(2) प्रयोगात्मक मनोविज्ञान
(3) विज्ञान
(4) इनमें से कोई नहीं (2)
74. शिक्षण-शिक्षक का स्व-मूल्यांकन है। इस कथन से आप-
- (1) सहमत हैं (2) पूर्णतः सहमत हैं
(3) आंशिक रूप से सहमत हैं
(4) असहमत हैं। (2)
75. वर्तमान परिस्थितियों में शिक्षक नेता के लिए सादा जीवन उच्च विचार का सिद्धान्त है-
- (1) मूर्खतापूर्ण (2) अनुपयोगी
(3) पाखंड युक्त (4) कल्याणकारी (4)
76. मौखिक परीक्षा का सर्वाधिक महत्वपूर्ण अंग यह है, कि इसमें-
- (1) विद्यार्थी की सम्पूर्ण अधिगम क्षमता के अभिव्यक्ति कौशल को मापा जा सकता है।
(2) प्रश्न पत्र बनाने के झंझट से मुक्ति मिल सकती है।
(3) ऐसा प्रश्न-पत्र निर्माण समिति द्वारा निर्देशित होता है।
(4) शिक्षक व्यक्तिशः विद्यार्थी की योग्यताओं का एकल मूल्यांकन कर सकता है। (1)
77. बाल्यवस्था में 'गैंग' निर्माण के सम्बन्ध में सही है-
- (1) विद्यालय के अंदर ही क्रियात्मक आज्ञा प्रदान करनी चाहिए।
(2) उन्हें एक निश्चित दायरे के अंदर ही क्रियाशीलता की आज्ञा देनी चाहिए।
(3) उन्हें प्रौढ़ व्यक्तियों की देख-रेख तथा निर्देशन में ही आगे बढ़ने की प्रेरणा देनी चाहिए।
(4) इस गैंग को समाप्त कर देना चाहिए। (1)
78. बालक-बालिकाओं के सामाजिक विकास का आधारभूत अभिकरण कहा जाता है-
- (1) विद्यालय (2) माता-पिता एवं परिवार
(3) समुदाय (4) जनसंचार माध्यम (3)
79. कक्षा में पढ़ाते समय एक छात्र ने आपसे एक प्रश्न पूछा, जिसका उत्तर आपको मालूम नहीं है ऐसी दशा में आप-
- (1) उसे डाँटकर बिठा देंगे।
(2) प्रश्न को गलत कहकर चुपकर देंगे।
(3) उसके प्रश्न का यथासम्भव उत्तर देंगे।
(4) दूसरे दिन उत्तर बताने का वायदा करेंगे। (4)
80. भारत एक धर्म निरपेक्ष राष्ट्र है, आप एक शिक्षक के रूप में-
- (1) छात्रों को सभी धर्म के उत्सव पर शुभकामनाएँ देंगे।
(2) केवल अपने धर्म के उत्सव पर शुभकामनाएँ देंगे।
(3) किसी भी धर्म के उत्सव पर शुभकामना नहीं देंगे।
(4) आपके विचार में छात्रों के धार्मिक उत्सवों से आपका कोई लेना-देना नहीं है। (1)
81. प्राप्त संकेतों को व्यक्तिगत अर्थ से जोड़ने की प्रक्रिया कहलाती है-
- (1) निकूटन (2) सम्प्रेषण
(3) सुसाध्यक (4) विकूटन (3)
82. निम्नलिखित में से कौनसी दृश्य-श्रव्य सामग्री है-
- (1) रेडियो (2) ब्लैक बोर्ड
(3) टेलीविजन (4) ओ. एच. पी. (3)
83. शीर्ष गोपनीय सम्प्रेषण हेतु स्त्रोत एवं ग्राहक सम्प्रेषण के मध्य की दूरी होनी चाहिए-
- (1) 12-10 इंच (2) 1-2 इंच

- (3) 8-12 इंच (4) 3-6 इंच (4) 89. शिक्षक और प्राचार्य एक-दूसरे के-
84. गृह कार्य छात्रों को स्वाध्याय प्रेमी तो बनाता है। इसके साथ-साथ छात्रों में- (1) प्रतिद्वन्द्वी होते हैं (2) मित्र होते हैं (3) सहयोगी होते हैं (4) विरोधी होते हैं। (3)
- (1) तर्कशक्ति एवं विचार शक्ति उत्पन्न करता है। (1) 90. दैनिक समाचार-पत्र में किस प्रकार के समाचारों में आप रुचि लेते हैं?
- (2) घूमने की प्रवृत्ति को कम कर देता है। (1) रोजगार के समाचार-पत्र (2) दुर्घटना के समाचार-पत्र (3) शैक्षणिक समाचारों पर (4) राजनैतिक समाचारों पर (3)
- (3) मनोरंजन की भावना को कम कर देता है। (1) 91. आप अध्यापन व्यवसाय की प्रगति के लिए सर्वोच्च महत्त्व प्रदान करेंगे-
- (4) थकान उत्पन्न करता है। (1) उच्चकोटि का कक्षीय शिक्षण कार्य (2) अधिकाधिक ट्यूशन कार्य (3) उत्तम पुस्तकों का लेखन (4) शिक्षण कार्य का पलायन (1)
85. यदि आपके विद्यालय में भिन्न-भिन्न जाति वाले शिक्षक हैं, तो आपका उनके प्रति व्यवहार कैसा होगा? (1) जब कोई विद्यार्थी अप्रासंगिक प्रश्न पूछता है, तो आप क्या करेंगे?
- (1) कोई भेदभाव नहीं रखेंगे। (1) उसका उपहास करेंगे। (2) उसको गलती का आभास करायेंगे। (3) उसकी अवहेलना करेंगे। (4) उसको अन्य अवसर नहीं देंगे। (4)
- (2) उनसे विशेष सम्बन्ध नहीं रखेंगे। (2) 93. ज्ञानार्जन के लिए शिक्षक को होना चाहिए-
- (3) केवल अपने विषय वाले शिक्षकों से सम्पर्क रखेंगे। (2) प्रयासशील (2) सजग (3) पुस्तक संग्रहकर्ता (4) निश्चेष्ट (2)
- (4) अपने कार्य से मतलब रखेंगे। (1) 94. स्वयं की रुचि निर्भर होनी चाहिए-
86. भूल सुधार पद्धति को किस प्रकार बढ़ावा दिया जा सकता है- (1) माता-पिता पर (2) समाज पर (3) मित्रों पर (4) स्वयं पर (4)
- (1) खेल विधि से (2) स्वतंत्र रूप से अध्ययन द्वारा (3) श्रव्य-दृश्य सामग्री द्वारा (4) नाटकीय तरीके से (4)
87. राष्ट्रीय कैंडेट कोर (NCC) के टोली नायक के रूप में आप किस छात्र का चुनाव करना पसंद करेंगे- (1) बालक का सामाजिक विकास श्रेष्ठ होगा-
- (1) मेधावी छात्र का (2) प्रभावी व्यक्तित्व वाले छात्र का (3) शारीरिक रूप से शक्तिशाली छात्र का (4) आर्थिक रूप से सम्पन्न छात्र का (3)
88. व्यक्तिगत या सामूहिक रूप से प्रशंसा को तकनीकी भाषा में कहा जाता है- (1) यदि बालक के माता-पिता उचित लाइ प्यार करें तथा सामाजिक नियमों का सावधानी से पालन करवायें। (2) यदि बालक के विद्यालय में अच्छा वातावरण एवं उत्तम विद्यार्थियों के साथ मिलने-जुलने का मौका मिले। (3) यदि माता-पिता बालक के साथ कठोर एवं दमानात्मक व्यवहार रखें। (4) यदि शिक्षक बालकों को कठोर अनुशासन में रखें। (1)
96. 'प्रयोगात्मक मूल्यांकन विधि' विज्ञान एवं कम्प्यूटर के विद्यार्थियों के लिए अधिक आवश्यक मानी गई है, क्योंकि-
- (1) इसमें केवल सैद्धान्तिक ज्ञान द्वारा पूर्ण अधिगम संभव नहीं है। (2) इसमें सैद्धान्तिक ज्ञान को व्यावहारिक ज्ञान से क्रियाशील करके ही पूर्ण अधिगम संभव बनाया जा सकता है। (3) ऐसा यूरोपीय देशों में भी हो रहा है। (4) यह कौठारी आयोग के शिक्षा निर्देशों में उल्लेखित है। (2)
97. लिखित परीक्षा के अंतर्गत मूल्यांकन पद्धति की सर्वाधिक प्रमुख विशेषता यह होती है कि-
- (1) सभी प्रश्न आकस्मिक ढंग से निर्मित होते हैं। (2) यह पाठ्यक्रम से परे भी हो सकता है। (3) इसमें सम्पूर्ण पाठ्यक्रम पूर्व सूचित करके निर्धारित समय पर प्रश्न-पत्र के रूप में प्राप्त होता है। (4) यह वार्षिक अधिगम स्तर का वार्षिक मूल्यांकन लेखा-जोखा होता है। (3)
98. यदि बालक का समाजीकरण न हो तो वह कैसा होगा? (1) पशुवत (2) असामाजिक (3) कुसामाजिक (4) पूर्ण सामाजिक (2)
99. ऑपरेशन ब्लैक बोर्ड का क्या अर्थ है-
- (1) प्राथमिक स्कूलों की सुविधाओं में सुधार (2) कम से कम दो अध्यापकों की व्यवस्था (3) प्रत्येक स्कूल में ब्लैक बोर्ड की व्यवस्था (4) अध्यापकों के द्वारा ब्लैक बोर्ड का उपयोग (1)
100. वाणी एवं भाषा का विकास न होने का कारण है-
- (1) भाषा ज्ञान के पश्चात् बहरापन (2) भाषा ज्ञान के पूर्व बहरापन (3) जन्म से बहरापन (4) जन्म के पश्चात् बहरापन (3)

भाग-स : सामान्य हिन्दी

101. किस क्रम में अकर्मक क्रिया नहीं है?
- (1) युवक टहल रहा है। (2) रमेश ने मुझसे पत्र लिखा। (3) हरदेव सोता है। (4) शेखर कार में चलता है। (2)
102. किस क्रमांक में 'पेट में दाढ़ी होना' मुहावरे का सही अर्थ है?
- (1) बाल्यावस्था में ही समझदार होना (2) झगड़ालू होना (3) कुरूप होना (4) निरर्थक व्यक्ति (1)
103. 'ऋ' अर् में बदलता है-
- (1) गुण संधि के अनुसार (2) यण संधि के अनुसार (3) वृद्धि संधि के अनुसार (4) अयादि संधि के अनुसार (1)
104. 'उसे क्या पता, जिसे कभी कोई कष्ट न हुआ हो।' में कौनसा सर्वनाम है?
- (1) सम्बन्धवाचक (2) निजवाचक (3) प्रश्नवाचक (4) अनिश्चयवाचक (1)
105. 'गरीबों के निमित्त धन इकट्ठा करो' में कौनसा कारक है?
- (1) करण कारक (2) अपादान कारक (3) सम्प्रदान कारक (4) कर्ता कारक (3)
106. 'निर्निमेष' शब्द में कौनसा उपसर्ग है?
- (1) निर् (2) नि (3) निः (4) निस् (1)
107. 'नैसर्गिक' शब्द का पर्यायवाची नहीं है?
- (1) स्वभाविक (2) प्राकृतिक (3) बनावटी (4) कुदरती (3)
108. किस क्रम में देशज शब्द है?
- (1) तमन्ना (2) भौंदू (3) अग्नि (4) अक्षि (2)
109. किस वाक्य में अनिश्चयवाचक सर्वनाम है-
- (1) हम किसी को कुछ नहीं कह सकते। (2) मेरा जो भाई तुम्हें मिला था, वह आगे जा रहा है। (3) हम खुद ही इधर आ गए। (4) तुम कॉलेज कब जाओगे?। (1)
110. किस क्रमांक में 'एरा' प्रत्यय नहीं है?
- (1) चटेरा (2) ममेरा (3) फुफेरा (4) मौसेरा (1)
111. 'परिच्छेद' में कौनसी संधि है?
- (1) व्यंजन (2) दीर्घ (3) गुण (4) अयादि (1)
112. आवट प्रत्यय कहीं अशुद्ध है?
- (1) सजावट (2) मिलावट (3) ठगावट (4) थकावट (3)
113. 'अंशुमाली' में कौनसा समास है-

- (1) कर्मधारय (2) बहुव्रीहि (3) चन्द्रिका (4) शकट (1) 139. किस वाक्य में परिमाणवाचक विशेषण है?
 (1) सोहन पाँच किलो दूध पी गया।
 (2) थोड़े बच्चे दिखाई दे रहे हैं।
 (3) रमन पाँच केले खा गया।
 (4) आज मैंने अधिक अंगूर खा लिए। (1)
114. निम्नलिखित में कौनसा शब्द तत्सम है-
 (1) कुंवारा (2) कूप (3) कुल्हाड़ी (4) काठ (2) 127. यण संधि में 'य' बनेगा-
 (1) इ. ई + अ से (2) उ. ऊ + अ से
 (3) ए. ऐ + अ से (4) इ. ई + आ से (1) 128. किस क्रम में 'पाश्चात्य' का विलोम है?
 (1) पौरात्य (2) पूर्ववर्ती
 (3) परवर्ती (4) प्राच्य (1) 129. 'हाथ कंगन को आरसी क्या' लोकोक्ति का सही अर्थ है-
 (1) कंगन पहनने से सुन्दरता बढ़ जाती है।
 (2) हाथ के कंगन को आड़ने में देखना।
 (3) प्रत्यक्ष को प्रमाण की जरूरत नहीं होती।
 (4) सुन्दर व्यक्ति को कंगन की जरूरत नहीं पड़ती। (3)
115. किस वाक्य में सकर्मक क्रिया नहीं है?
 (1) मोहन हँसता है। (2) सुधीर कार चलाता है।
 (3) पुलिस ने चोर को पकड़ लिया।
 (4) रामू को दवा पिलाओ। (1) 130. 'मछली मारकर आजीविका चलाने वाला' के लिए एक शब्द है-
 (1) मछेरा (2) धीवर
 (3) नकसीर (4) इनमें से कोई नहीं (2)
116. 'अथ' शब्द का विलोम है-
 (1) अनर्थ (2) सुअथ
 (3) इति (4) इनमें से कोई नहीं (3) 131. 'उपेक्षा' का सही विलोम है-
 (1) सम्मान (2) अपेक्षा
 (3) अपमान (4) तिरस्कार (2) 132. किस क्रमांक में सभी शब्द शुद्ध हैं?
 (1) अत्यधिक, अनधिकार
 (2) आधीन, चाहिये
 (3) गृहस्थी, दिवाली
 (4) पुज्य, ऐनक (1)
117. किस शब्द में समास का सही प्रयोग हुआ है?
 (1) राम-कृष्ण-बहुव्रीहि समास
 (2) यमुना तट-करण तत्पुरुष समास
 (3) भला मानस-द्विगु समास
 (4) कनकलता-कर्मधारय समास (4) 133. 'मैं बच्चे को दूध पिला रही है' में कौनसा कारक है?
 (1) करण कारक (2) सम्प्रदान कारक
 (3) अपादान कारक (4) कर्म कारक (4) 134. किस क्रमांक का शब्द शुद्ध है?
 (1) पौराणिक (2) पुराणिक
 (3) पौराणीक (4) पुराणीक (1) 135. किस क्रमांक में सही संधि-विच्छेद है?
 (1) वधुल्लास = वधु + उल्लास
 (2) पद्धति = पत् + हति
 (3) कुलटा = कुल् + अटा
 (4) जलोर्मि = जल् + उर्मि (2)
118. किस शब्द में 'अति' उपसर्ग लगा है?
 (1) अत्युत्तम (2) अन्तर्यामी
 (3) अध्यापक (4) अभ्युदय (1) 136. 'नियुक्ती' शब्द का शुद्ध रूप है-
 (1) नियुक्ति (2) नियुक्ति
 (3) नियुक्ति (4) नीयुक्ति (3) 137. किस क्रम में संरचना की दृष्टि से क्रिया का भेद नहीं है?
 (1) नामधातु क्रिया (2) प्रेरणार्थक क्रिया
 (3) सकर्मक क्रिया (4) संयुक्त क्रिया (3) 138. 'घार अतिथि आ गये हैं, उसको जलपान कराना है' में किस तरह की अशुद्धि है?
 (1) लिंग सम्बन्धी अशुद्धि
 (2) वचन सम्बन्धी अशुद्धि
 (3) क्रिया सम्बन्धी अशुद्धि
 (4) कारक सम्बन्धी अशुद्धि (2)
119. बिहारी ने 'सतसई लिखी' में 'सतसई' शब्द में कौनसा विशेषण है?
 (1) समुच्चय बोधक (2) समुदाय बोधक
 (3) परिमाण बोधक (4) क्रम बोधक (1) 139. 'इतिहास के पूर्व का' के लिए एक शब्द है-
 (1) ऐतिहासिक (2) पूर्वकालिक
 (3) प्रागैतिहासिक (4) सर्वकालिक (3) 140. अनेकार्थक शब्द एवं उनके द्वारा धारित अर्थों की दृष्टि से असंगत विकल्प का चयन कीजिए-
 (1) कुंभ-घड़ी, हाथी का मास्तक
 (2) क्षेत्र-खेत, शरीर, स्त्री, गृह, नगर
 (3) प्रसव-जन्म, फल, फूल
 (4) कलम-पैन, हथियार, हल्था, स्वरूप (4) 141. किस क्रमांक में 'सूत-सुत' शब्द-युग्म का सही अर्थ भेद है-
 (1) सारथी-पुत्र (2) सारथी-घागा
 (3) घागा-घोड़ा (4) पुत्र-सुई (1) 142. किस क्रमांक में 'भीति-भिति' शब्द-युग्म का सही अर्थ-भेद है-
 (1) डर-दीवार (2) आकाश-भय
 (3) डर-नीकर (4) धरती-भय (1) 143. किस क्रमांक में 'कुतल-कुडल' शब्द-युग्म का सही अर्थ-भेद है?
 (1) सेना-कुडली (2) कुंभ-हाथी
 (3) केश-कर्णाभूषण (4) हाथी-सौंप (3) 144. किस क्रमांक में सभी पर्यायवाची शब्द सही हैं?
 (1) सरस्वती, भारती, शारदा, कामिनी
 (2) कुरंग, सारंग, मृग, कुंजर
 (3) बैकुण्ठ, देवलोक, सुरलोक, द्युलोक
 (4) मृगुन्द्र, मृगपति, दंती, केसरी (3) 145. 'इतिहास के पूर्व का' के लिए एक शब्द है-
 (1) ऐतिहासिक (2) पूर्वकालिक
 (3) प्रागैतिहासिक (4) सर्वकालिक (3) 146. 'अंधे के हाथ बटेर लगना' लोकोक्ति का सही अर्थ है-
 (1) बिना ताकत की प्राप्ति।
 (2) बिना मेहनत के ही उपलब्धि होना।
 (3) बिना आंख के प्राप्त करना।
 (4) बिना आंख के पक्षी को मारना। (2) 147. 'इन्द्रियों को भ्रमित करने वाला' के लिए एक शब्द है-
 (1) इन्द्रजीत (2) ऐन्द्रजालिक
 (3) इन्द्रियाभूत (4) इनमें से कोई नहीं (2) 148. किस क्रम में भाववाचक प्रत्यय नहीं है?
 (1) मर्दानगी (2) टोपीवाला
 (3) बपौती (4) बहुतायत (2) 149. निम्न में से अल्प प्राण नहीं है-
 (1) ख (2) ग (3) च (4) द (1) 150. 'एक पानी का गिलास दीजिए।' वाक्य का शुद्ध रूप होगा-
 (1) पानी का एक गिलास दीजिए।
 (2) पानी का गिलास दीजिए।
 (3) पानी का गिलास दो।
 (4) एक गिलास का पानी दो। (1)

भाग-द : सामान्य ज्ञान

151. केन्द्रक एवं कोशिका के खोजकर्ता क्रमशः हैं-
 (1) रोबर्ट हुक एवं टॉलबर्ट
 (2) रोबर्ट हुक एवं स्किनर
 (3) रोबर्ट ब्राऊन एवं रोबर्ट हुक
 (4) रोबर्ट हुक एवं वाल्टर फ्लेमिंग (3)
502. वह राज्य जो 100% स्वच्छता प्राप्त करने वाला देश का पहला राज्य बना-
 (1) केरल (2) महाराष्ट्र
 (3) तमिलनाडु (4) सिक्किम (4)
153. ऑक्सीजन का परिवहन करता है-
 (1) प्लाज्मा (2) लसिका
 (3) सीरम (4) रक्त (4)
154. हीरा व ग्रेफाइट हैं-
 (1) समन्यूट्रॉनी (2) समावयवी
 (3) समस्थानिक (4) अपररूप (4)
155. डी.डी.टी. का पूरा नाम है-
 (1) डाइक्लोरो डाइफिनाइल ट्राइक्लोरो मिथेन
 (2) डाइक्लोरो डाइफिनाइल ट्राइक्लोरो इथेन
 (3) डाइक्लोरो डाइ बेन्जाइल ट्राइक्लोरो इथेन
 (4) डाइक्लोरो डाइ इथाइल ट्राइक्लोरो मिथेन (2)
156. हाल ही में राष्ट्रीय युवा पुरस्कार किसे दिया गया है?
 (1) राकेश शर्मा (2) गोपाल कुमावत
 (3) विनय कुमार शर्मा (4) शंकरलाल गाडरी (4)
157. रक्त समूह के खोजकर्ता हैं-
 (1) लैंडस्टीनर (2) लीवाइन
 (3) विएनर (4) ल्यूवेनहॉक (1)
158. निम्न में कौनसी धातु बिजली की सबसे अधिक सुचालक है-
 (1) सोना (2) चाँदी (3) ताँबा (4) जस्ता (2)
159. भारत में प्रत्यावर्ती धारा की आवृत्ति है-
 (1) 30 Hz (2) 50 Hz (3) 60 Hz (4) 120 Hz (2)
160. भारत ने 18 जनवरी 2014 को किस खाड़ी देश के साथ अक्षय ऊर्जा, विशेषकर सौर ऊर्जा और पवन ऊर्जा के क्षेत्र में, सहयोग बढ़ाने सम्बन्धी समझौता ज्ञापन पर अबूधाबी में हस्ताक्षर किए?
 (1) ईरान (2) तुर्की
 (3) सऊदी अरब (4) संयुक्त अरब अमीरात (4)
161. निम्नलिखित में से कौनसा एक अर्द्ध-न्यायिक प्राधिकरण है?
 (1) केन्द्रीय सतर्कता आयोग
 (2) राष्ट्रीय महिला आयोग
 (3) भारत का नियंत्रक एवं महालेखा परीक्षक
 (4) प्रशासनिक अधिकरण (4)
162. निम्न इतिहासकारों में से किसने भारत में प्रथम बार इतिहास के क्षेत्र में मसूनी लिखने का चलन किया?
 (1) बदायूनी (2) इसामी
 (3) अमीर खुसरो (4) इब्नबतूता (3)
163. उस मध्यकालीन प्रथम इतिहासकार का नाम बताइये-जिसने विस्तृत रूप से अपनी इतिहास सम्बन्धी अवधारणाओं को लिखा है।
 (1) बदायूनी (2) इसामी
 (3) बरनी (4) अलबरूनी (3)
164. निम्न में से किसे 'तरतई माता' के नाम से भी सम्बोधित किया जाता है?
 (1) मीरा देवी (2) शाकम्भरी माता
 (3) त्रिपुरा सुन्दरी (4) जीण माता (3)
165. भारतीय संघीय व्यवस्थापिका में समवर्ती सूची का विचार कहाँ से लिया गया है?
 (1) ऑस्ट्रेलिया से (2) जापान से
 (3) चीन से (4) अमेरिका से (1)
166. भारत में व्यवस्थापिका किस देश की पद्धति पर आधारित है?
 (1) आयरलैण्ड (2) ब्रिटेन
 (3) अमेरिका (4) जर्मनी (2)
167. भारतीय संविधान के किस अनुच्छेद में राज्य को परिभाषित किया गया है?
 (1) अनुच्छेद 12 (2) अनुच्छेद 32
 (3) अनुच्छेद 42 (4) अनुच्छेद 52 (1)
168. सल्तनतकालीन कौनसा वंश इतिहास लेखन की दृष्टि से स्वर्ण युग था?
 (1) खिलजी (2) तुगलक (3) सैय्यद (4) लोदी (2)
169. भारत का कार्यपालिका अध्यक्ष कौन है-
 (1) राष्ट्रपति (2) प्रधानमंत्री
 (3) विरोधी दल का नेता
 (4) भारत सरकार का मुख्य सचिव (1)
170. मेवाड़ के उस शासक का नाम बताइये, जिसके शासन काल को 'सिंघाई के क्षेत्र में मेवाड़ का स्वर्णयुग' कहा जाता है?
 (1) महाराणा प्रताप (2) महाराणा राजसिंह
 (3) महाराणा सांगा (4) महाराणा कुम्भा (2)
171. ख्वाजा मुइनुद्दीन चिश्ती कहाँ के मूल निवासी थे-
 (1) मक्का (सऊदी अरब)
 (2) कंधार (अफगानिस्तान)
 (3) सिजिस्तान (ईरान)
 (4) इनमें से कोई नहीं (3)
172. टैगोर ने "नाइटहुड" की उपाधि किस घटना के विरोध में वापस की?
 (1) चौरी-चोरा (2) साम्प्रदायिक दंगे
 (3) जलियाँवाला बाग काण्ड
 (4) साइमन कमीशन (3)
173. गाँधीजी के आंदोलनों को 'राजनीतिक फिरोती' किस वायसराय ने कहा था?
 (1) लॉर्ड डलहौजी (2) लॉर्ड कर्जन
 (3) लॉर्ड रिपन (4) लॉर्ड लिनलिथगो (4)
174. कांग्रेस के किस अधिवेशन में हिन्दी को सर्वप्रथम राष्ट्रभाषा के रूप में प्रस्तुत किया गया?
 (1) मुम्बई का विशेष अधिवेशन, 1918 में
 (2) बेलगाँव अधिवेशन, 1924 में
 (3) कलकत्ता का विशेष अधिवेशन, 1920
 (4) दिल्ली का विशेष अधिवेशन, 1923 (2)
175. राजस्थान के उस एकमात्र जिले का नाम बताइये, जहाँ केवल तिराहे हैं, चौराहा नहीं है?
 (1) जयपुर (2) झालावाड़
 (3) जालौर (4) सीकर (2)
176. अन्तर्राष्ट्रीय न्यायालय में न्यायाधीशों की नियुक्ति की अवधि क्या है?
 (1) 5 वर्ष (2) 9 वर्ष
 (3) 7 वर्ष (4) 8 वर्ष (2)
177. बगलिहार विद्युत परियोजना किस नदी पर बनी है-
 (1) व्यास (2) घिनाब (3) सतलुज (4) सिंधु (2)
178. भारत के किस याम्योत्तर का स्थानीय समय मानक समय माना जाता है?
 (1) 68°7' पूर्व (2) 23°30' उत्तर
 (3) 82°30' पूर्व (4) 23°30' दक्षिण (3)
179. सबसे लम्बी तटीय रेखा वाला भारतीय राज्य है-
 (1) महाराष्ट्र (2) गुजरात
 (3) आंध्रप्रदेश (4) तमिलनाडु (2)
180. दक्षिण गंगा के नाम से जाने वाली नदी का नाम है-
 (1) महानदी (2) कावेरी
 (3) गोदावरी (4) कृष्णा (3)
181. हरिमंदिर स्थित है-
 (1) बाँसवाड़ा में (2) डूंगरपुर में
 (3) कोटा में (4) जोधपुर में (2)
182. किसको 'राष्ट्रीय खाद्य सुरक्षा मिशन' में सम्मिलित नहीं किया गया है?
 (1) तिलहन (2) दलहन
 (3) मोटा अनाज (4) इनमें से कोई नहीं (1)
183. माउण्ट आबू के जैन मंदिर किसके बने हैं-
 (1) सैण्ड स्टोन (2) कोटा स्टोन
 (3) करौली का लाल पत्थर (4) मार्बल (4)

184. कौनसे स्थानों पर भारत की मुख्य तौबा खदानें हैं-
 (1) खेतड़ी (2) दरीबा क्षेत्र
 (3) दोनों (1) व (2) (4) इनमें से कोई नहीं (3)
185. 'मारवाड़ परगना री विगत' का लेखक था-
 (1) उद्योतन सूरी (2) सूर्यमल्ल मिश्रण
 (3) नैणसी (4) जायसी (3)
186. जोधपुर के राठौड़ वंशीय शासक महाराजा अजीतसिंह की प्रारम्भिक दिनों में किसने रक्षा नहीं की व उनके पालन पोषण में योगदान नहीं किया-
 (1) दुर्गादास, मुकन्ददास
 (2) बांदावत मोहमक सिंह खींची
 (3) पुरोहित जयदेव जी
 (4) गजसिंह (4)
187. नागदा में स्थित "सास-बहू" (मूल नाम सहस्त्र बाहु) का मन्दिर किस शैली में निर्मित है-
 (1) चम्पू (2) नागर
 (3) द्रविड़ (4) सर्वतोभद्र (4)
188. थार की वैष्णो देवी के नाम से 'तनौटिया माता' को जाना जाता है, बताइये राजस्थान की वैष्णो देवी के नाम से किसे जाना जाता है।
 (1) जीण माता (2) अर्बूदा देवी
 (3) शाकम्बरी माता (4) नागण्णेशी माता (2)
189. लूनी नदी का उद्गम स्थल है-
 (1) पुष्कर (2) गोगुन्दा
 (3) बैराठ (4) सांभर (1)
190. महाराणा प्रताप ने मेवाड़ पर शासन कब किया-
 (1) 15वीं शताब्दी में (2) 16वीं शताब्दी में
 (3) 17वीं शताब्दी में (4) इनमें से कोई नहीं (2)
191. किस जिले का दशहरा मेला प्रसिद्ध है?
 (1) कोटा (2) बीकानेर
 (3) जोधपुर (4) अजमेर (1)
192. लांगुरिया गीत किस देवी की स्तुति में गाया जाता है?
 (1) शीतलामाता (2) दुर्गामाता
 (3) करणीमाता (4) कैलादेवी (4)
193. निम्न में से किस इतिहासकार ने अकबर को "दर्मयुद्ध का चैम्पियन" कहा है।
 (1) अबुल फजल (2) कटारगढ़
 (3) मैग्जीन (4) विजय स्तम्भ (1)
194. 'मेवाड़ की आँख' किसे कहते हैं?
 (1) मीरा बाई का मन्दिर
 (2) कटारगढ़ (3) मैग्जीन
 (4) विजय स्तम्भ (2)
195. जनगणना- 2011 के अनुसार राजस्थान में 0-6 आयु वर्ग का सर्वाधिक शिशु लिंगानुपात वाला जिला है-
 (1) बाँसवाड़ा (2) बारौ
 (3) भीलवाड़ा (4) डूंगरपुर (1)
196. ग्रीष्म ऋतु में सर्वाधिक आँधियाँ किस जिले में चलती हैं?
 (1) जैसलमेर (2) बाड़मेर
 (3) बीकानेर (4) श्रीगंगानगर (4)
197. 1857 के स्वतंत्रता आंदोलन के समय जयपुर का शासक कौन था?
 (1) माधोसिंह द्वितीय (2) मानसिंह द्वितीय
 (3) रामसिंह द्वितीय (4) मानसिंह तृतीय (3)
198. राजस्थान में शुष्क सागवान के वन मुख्यतः कहाँ पाये जाते हैं?
 (1) जोधपुर (2) बीकानेर
 (3) जैसलमेर (4) बाँसवाड़ा (4)
199. हाथीमना नृत्य किस जनजाति में प्रचलित है?
 (1) सांसी (2) कंजर
 (3) मीणा (4) भील (4)
200. नौलखा/नवलखा बावड़ी किस जिले में स्थित है?
 (1) कोटा (2) बूँदी
 (3) झालावाड़ (4) डूंगरपुर (4)

□□□